





- 10) உணவைப் பல்வகைப்படுத்தும் செயற்றிட்டத்தின் மூலம் அதிகமாகப் பயன்படும் உணவுப் பொருள்?
 1) அரிசி 2) மா 3) அவல் 4) சோறு
- 11) பாலில் உள்ள போசனையை எவ்வுணவு மூலம் பெற்றுக் கொள்ளலாம்?
 1) பழங்கள் 2) முட்டை 3) யோகட் 4) இடியப்பம்
- 12) செயற்றிட்டத்தினை ஆரம்பிக்கும் முன்னர் எதனை தயாரிப்பதனால் உரியவகையில் நடைமுறைப்படுத்த முடியும்?
 1) செயற்பாட்டுத்திட்டம் 2) வேலைத் தேவைகள்
 3) செலவுத்திட்டம் 4) வரவு செலவுத் திட்டம்
- 13) பனை, மா, மீன், சின்ன வெங்காயம், மிளகாய், வாழை, நெல்லி, புளி போன்ற உணவுகள் அதிகமாகக் காணப்படும் மாகாணம்?
 1) கிழக்கு 2) மேற்கு 3) வடக்கு 4) தெற்கு
- 14) பொன்னாங்காணி கீரைத்தண்டினை பயிரிட எத்தனை பகுதிகளாக பிரித்து பயன்படுத்துவர்?
 1) 3 2) 2 3) 4 4) 5
- 15) வரையறுக்கப்பட்ட இடங்களுக்குப் பொருத்தமான பயிர்ச்செய்கை முறைகளில் ஒன்று?
 1) பயிர்ச்செய்கை இறாக்கை 2) நாற்றுமேடை
 3) பாத்திகளில் பயிரிடல் 4) பரவி விதைத்தல்
- 16) PVC குழாய் பயன்படுத்தி செய்யப்படும் பயிர்ச்செய்கை?
 1) பயிர்ச்செய்கை குடை 2) பயிர்ச்செய்கை கோபுரம்
 3) கூம்பகம் 4) மேடை
- 17) சூழலுக்கு உவப்பானது எனக் காட்டும் குறியீடு?
 1)  2)  3)  4) 
- 18) படத்தில் காட்டப்பட்ட உரு?
 1) மின் விளக்கு 2) இழை மின்குமிழ்
 3) LED 4) CFL
- 19) பிரச்சினைகளை இனங்காணும் போது கவனத்தில் கொள்ள வேண்டியது?
 1) பிரச்சனைகளை 2) கவனமாகக் கையாளல்
 3) அறிவு, திறன்கள் 4) தொழில் நுட்பங்கள்
- 20) பாடசாலை வளவில் இடங்களை துல்லியமாக கண்டறிய போடப்படுவது?
 1) விளம்பரப் பலகை 2) படிக்கட்டுக்கள்
 3) திசைகாட்டி 4) பாதைக் குறிகாட்டி, பெயர்பலகை

(20 × 2 = 40 புள்ளிகள்)

பகுதி II

● எவையேனும் ஐந்து வினாக்களுக்கு விடை தருக.

- 01) (i) விவசாய உற்பத்திகளை மற்றும் சேவைகள் வழங்கக்கூடியவாறு வீட்டுத் தோட்டத்தை அபிவிருத்தி செய்யும் போது கவனிக்க வேண்டிய விடயங்கள் 4 தருக?
- (ii) முளை கட்டிய வித்துக்களைத் தயாரிக்கத் தேவையான பொருட்கள் எவை?
- (iii) மேற்கூறப்பட்டவற்றைக் கொண்டு செய்முறைப் படிமுறையைத் தருக?
- (4 + 4 + 4 = 12 புள்ளிகள்)
- 02) (i) கோக்கிடாமாப் பயிர்ச்செய்கைக்குத் தேவையான பொருட்கள் எவை?
- (ii) வரையறுக்கப்பட்ட இடங்களுக்குப் பொருத்தமான பயிர்ச்செய்கை முறைகள் 4 குறிப்பிடுக?
- (iii) சதுரமுடியொட்டை மேற்கொள்ளத் தேவையான பொருட்கள், உபகரணங்களைத் தருக?
- (4 + 4 + 4 = 12 புள்ளிகள்)
- 03) (i) உணவின் தரம் மற்றும் விவரக்கூறுகளின் முக்கியத்துவம் 4 தருக?
- (ii) இலங்கையில் சிபார்சு செய்யப்படுகின்ற தரங்களின் உரிமையான 2 நிறுவனங்களும் அவற்றின் குறியீடுகளையும் குறிப்பிடுக?
- (iii) சுவர் ஒட்டியொன்றைத் தயாரித்து அதில் ஒரு குறியீட்டினைப் பயன்படுத்திக் காட்டுக?
- (4 + 4 + 4 = 12 புள்ளிகள்)
- 04) (i) பால் உற்பத்திப் பொருட்கள் 5 தருக?
- (ii) செயற்திட்டம் ஒன்றை உணவை அடிப்படையாகக் கொண்டு திட்டமிடுக?
- (iii) சுட்டித் துண்டு ஒன்றை உற்பத்திப் பொருளுக்கு தயாரித்துக் காட்டுக?
- (4 + 4 + 4 = 12 புள்ளிகள்)
- 05) (i) வேலையை இலகுவாக்க பயன்படும் செயற்பாடுகளை உதாரணம் மூலம் விளக்குக?
- (ii) வேலையை விரைவாக செய்து முடிக்க பயன்படும் உபகரணங்களை வரிசைப்படுத்துக?
- (iii) உபகரணத்தின் விளைத்திறனை அதிகரிக்க மேற்கொள்ளப்படும் செயற்பாடு யாது?
- (4 + 4 + 4 = 12 புள்ளிகள்)
- 06) (i) சிற்றளவு வணிகத்தின் பொதுவான பண்புகள் 4 தருக?
- (ii) முயற்சியாளர்கள் சிற்றளவு வணிகங்கள் மீது கவனஞ் செலுத்துவதற்கான காரணங்கள் 4 தருக?
- (iii) சிற்றளவு வணிகங்கள் வளர்ச்சியடைவதால் நாட்டின் பொருளாதார விருத்திக்குக் கிடைக்கும் அனுகூலங்கள் 4 தருக?
- (4 + 4 + 4 = 12 புள்ளிகள்)